

REPETERA 4b – Geometri

Använd linjal. Rita en

linje

sträcka

triangel

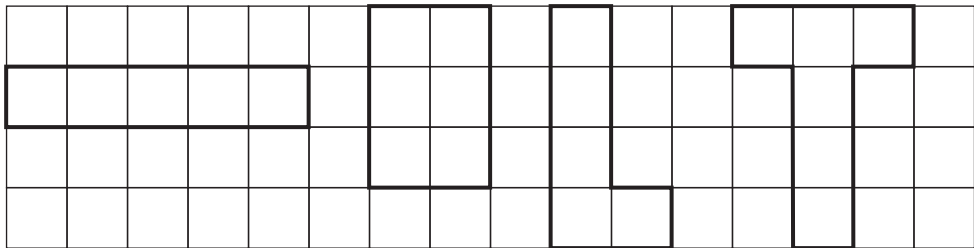
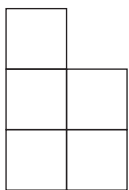

Rita en kvadrat och
beräkna omkretsen.



Omkretsen är _____ cm.



Måla den figur som har samma omkrets som modellen.



Använd linjal. Vilka bokstäver har en symmetrilinje?
Rita linjen om den finns.

A

J

B

Y

S